

مرجع سوالات و محتوای آموزشی

ابتدایی-دوره متوسطه اول و دوم

زبان خارجه - فناوری اطلاعات



www.novinmad.ir



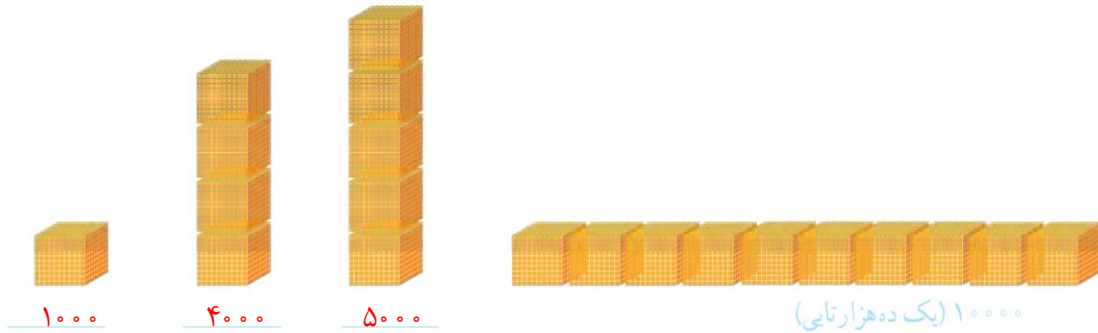
عددنویسی




۱- الگوی شمردن ۱۰۰۰ تا ۱۰۰۰ تا را ادامه دهید.

۱۰۰۰ و ۲۰۰۰ و ۳۰۰۰ و ۴۰۰۰ و ۵۰۰۰ و ۶۰۰۰ و ۷۰۰۰ و ۸۰۰۰ و ۹۰۰۰

۲- هر مکعب نشان دهنده عدد ۱۰۰۰ است. عددی را که هر شکل نشان می دهد، بنویسید.




اگر ۱۰ مکعب ۱۰۰۰ تایی را کنار هم قرار دهیم، چه عددی درست می شود؟
با حروف: ده هزار با رقم: ۱۰۰۰۰



۳- شکل مقابل چه عددی را نشان می دهد؟
۲۰ مکعب ۱۰۰۰ تایی کنار هم قرار گرفته است پس عدد ۲۰۰۰۰ را نشان می دهد.

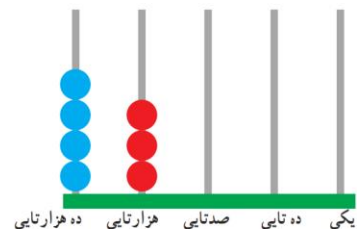
با حروف: بیست هزار با رقم: ۲۰۰۰۰



۱۴۰۰۰



۳۲۰۰۰



۴۳۰۰۰



۱- عددی را که در جدول مشخص شده است، بنویسید.

یکی	ده‌تایی	صدتایی	هزارتایی	ده‌هزارتایی
۰	۰	۰	۷	۴

۴۷۰۰۰

یکی	ده‌تایی	صدتایی	هزارتایی	ده‌هزارتایی
۰	۰	۰	۴	۷

۷۴۰۰۰

۲- ده هزار، چندتا هزارتاست؟ ده تا

۳- بیست هزار، چندتا هزارتاست؟ بیست تا

۴- سی و پنج هزار، چندتا هزارتاست؟ سی و پنج تا

۳- با توجه به سؤال‌های بالا، عددی را که در جدول مشخص شده است با عدد و حروف بنویسید.

هزار	
یکان	دهگان
۷	۴

با رقم: ۴۷۰۰۰

با حروف: چهل و هفت هزار

هزار	
یکان	دهگان
۳	۵

هزار	
یکان	دهگان
۵	۳

۴- بین این دو عدد چه تفاوتی وجود دارد؟


رقم یکان هزار و دهگان هزار در جدول‌ها برعکس هم می‌باشند. این دو عدد با هم برابر نیستند. می‌توان نتیجه گرفت که با جابجا کردن رقم‌های یک عدد ارزش مکانی رقم‌ها تغییر کرده و عدد جدیدی حاصل می‌شود که با عدد قبلی برابر نخواهد بود.



۱- الگوی عددی را بخوانید و ادامه دهید.

۱۰,۰۰۰ و ۲۰,۰۰۰ و ۳۰,۰۰۰ و ۴۰,۰۰۰ و ۵۰,۰۰۰ و ۶۰,۰۰۰ و ۷۰,۰۰۰ و ۸۰,۰۰۰

۲- عددی را که هر شکل نشان می‌دهد، بخوانید و بنویسید.





۱- مانند نمونه، جاهای خالی را پر کنید.

- دوتا ده هزارتا برابر است با: بیست هزار یعنی عدد: ۲۰۰۰۰
 - دویست تا هزارتا برابر است با: دویست هزار یعنی عدد: ۲۰۰,۰۰۰
 - سیصد و بیست تا هزارتا برابر است با: سیصد و بیست هزار یعنی عدد: ۳۲۰,۰۰۰
 - چهارصد و هفتاد و دو تا هزارتا برابر است با: چهارصد و هفتاد و دو هزار یعنی عدد: ۴۷۲,۰۰۰
- ۲- هر جدول چه عددی را نشان می‌دهد؟

هزار		
صدگان	دهگان	یکان
۷	۲	۱

۷۲۱,۰۰۰

هزار		
صدگان	دهگان	یکان
۴	۸	۹

۴۸۹,۰۰۰

صدگان	دهگان	یکان
۴	۵	۳

۴۵۳

با توجه به جدول‌های بالا، عددی را که هر کدام از جدول‌ها نشان می‌دهد، بنویسید و جاهای خالی را مانند نمونه پر کنید.

هزار					
صدگان	دهگان	یکان	صدگان	دهگان	یکان
۷	۲	۱	۴	۵	۳

۷۰۰,۰۰۰

۴۰۰

۷۲۱,۴۵۳

هزار					
صدگان	دهگان	یکان	صدگان	دهگان	یکان
۴	۸	۹	۴	۵	۳

۸۰,۰۰۰

۵۰

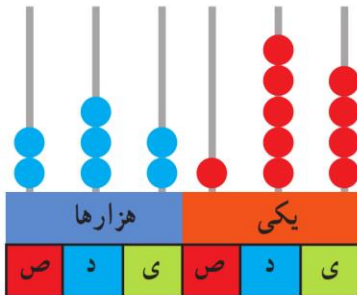
۴۸۹,۴۵۳

۱- عدد دویست و هفتاد و پنج هزار و هفتصد و بیست و یک را در جدول ارزش مکانی نشان دهید.

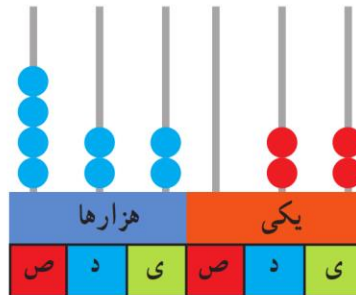
هزار					
صدگان	دهگان	یکان	صدگان	دهگان	یکان
۲	۷	۵	۷	۲	۱



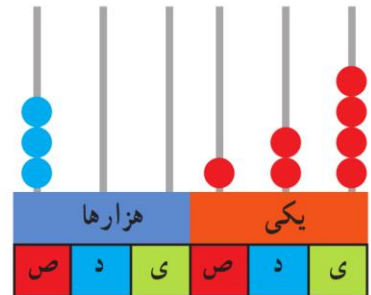
۲- عددی را که هر شکل نشان می‌دهد بنویسید.



۲۳۲,۱۵۴



۴۲۲,۰۲۲



۴۰۰,۱۲۴

۳- پول‌های زیر در کیف حمید است. حمید چند ریال پول دارد؟ **ریال $42421 = 1 + 20 + 400 + 2000 + 40000$**



۴- عددی را که هر عبارت نشان می‌دهد در جدول ارزش مکانی قرار دهید.

هزار			صدگان		
یکان	دهگان	صدگان	یکان	دهگان	صدگان
۹	۸	۷	۴	۵	۳
۷	۰	۹	۲	۰	۸
۶	۰	۰	۵	۳	۰
۰	۹	۰	۰	۷	۴

$$300000 + 50000 + 4000 + 700 + 80 + 9 = 354,789$$

$$800000 + 2000 + 900 + 7 = 802,907$$

$$3 = 35,006 \text{ تا } 10000 \text{ تا } 5 \text{ تا } 1000 \text{ تا } 6 \text{ تا یکی}$$

$$470,090 = 4 \text{ تا } 100 \text{ هزار تا } 7 \text{ تا } 10000 \text{ تا } 9 \text{ تا } 10 \text{ تا یکی}$$

۵- عدد 124000 را در نظر بگیرید. این عدد چند رقمی است؟ **۶ رقمی**

رقم یکان هزار آن چند است؟ **۴** رقم صدگان آن چند است؟ **صفر**

۶- عددهای مورد نظر را بنویسید.

کوچک‌ترین عدد شش رقمی: **1000000**

بزرگ‌ترین عدد پنج رقمی: **99999**

کوچک‌ترین عدد پنج رقمی بدون تکرار رقم‌ها: **10234**

بزرگ‌ترین عدد چهار رقمی بدون تکرار رقم‌ها: **9876**

کوچک‌ترین عدد چهار رقمی با رقم‌های $6, 0, 7, 4$: **4067**

بزرگ‌ترین عدد سه رقمی با رقم‌های $7, 3, 5$: **753**

۷- جمعیت یک شهر در سرشماری سال 1390 ، 476000 نفر بوده است. این عدد را با حروف بنویسید. **چهارصد و هفتاد و شش هزار**

۸- به نظر شما، عدد 47000 چه چیزهایی را می‌تواند نشان دهد؟ پاسخ خود را با پاسخ‌های دوستانتان مقایسه کنید.

جمعیت یک شهرستان، جمعیت دانش آموزان کلاس چهارم دبستان منطقه ۴ اصفهان و...

۹- تعداد افراد را به مکان‌های مناسب وصل کنید. یعنی حدس بزنید که در هر مکان به طور تقریبی چند نفر جا می‌گیرند.

نفر 10	نفر 100	نفر 1000	نفر 10000	نفر 100000
خانه	خیابان	استادیوم	اتاق	کوچه
نفر 5	نفر 50	نفر 500		
اتوبوس	قطار	ماشین سواری		