

مرجع سوالات و محتوای آموزشی

ابتدایی-دوره متوسطه اول و دوم

زبان خارجه - فناوری اطلاعات



www.novinmad.ir



حس و حرکت

فصل

۵



وقتی وارد محیط جدیدی مثل بوستان می‌شوید، بعضی از احساس‌های خود را بیان می‌کنید. چه بوی خوبی؛ چه گل‌های زیبایی؛ هوا کمی سرد است؛ این صدای چه پرندۀ ای است؟ بیان این احساس‌ها نشان‌دهندۀ رسیدن اطلاعاتی از محیط اطراف به دستگاه عصبی است. اطلاعات چگونه از محیط پیرامون به دستگاه عصبی وارد می‌شوند؟

محرک چیست؟ پیامی که از محیط به جاندار می‌رسد

«اندام‌های حسی»

محرک‌های مختلفی در طبیعت هست که روی بدن ما تأثیر می‌گذارند؛ مثل نور، صوت، مواد

شیمیایی، گرما و فشار.



نام چند محرک نام ببرید

فعالیت

چشمان یکی از اعضای گروه را با یک پارچه تیره با احتیاط ببندید.

چراغ قوه‌ای را روشن کنید و نور آن را در فاصله ۱۵-۱۰ سانتی متری به بخش‌های مختلف بدن او بتابانید.

– آیا دانش آموز نور را احساس می‌کند؟ ← **خیر**

– چراغ قوه را به پوست نزدیک‌تر کنید؛ آیا او نور را احساس می‌کند؟ ← **خیر نور را احساس نمی‌کند**

– دانش آموز در فاصله نزدیک می‌فهمد که چراغ قوه به او نزدیک شده است؛ چرا؟ ←

درباره نتایج این فعالیت با هم کلاسی‌های خود بحث کنید. زیرا چراغ قوه کمی گرما تولید می‌کند و در فاصله‌ی نزدیک قابل احساس است.

آیا هر محرک در همه جای بدن حس می‌شود؟

همان‌طور که از فعالیت بالا نتیجه گرفتید، هر محرکی در هر جایی از بدن احساس نمی‌شود؛ بلکه

فقط در محل‌های خاص حس می‌شود؛ مثلاً نور با چشم، صوت با گوش و گرما و سرما با پوست احساس

می‌شوند. به اندام‌هایی که اثر محرک خاصی را دریافت و به پیام عصبی تبدیل می‌کنند، **اندام‌های حسی**

می‌گویند. مهم‌ترین اندام‌های حسی بدن ما کدام‌اند؟ ← **اندام حسی چیست؟**

چشم ، گوش ، بینی ، زبان ، پوست

« چگونه اجسام و رنگ‌ها را می‌بینیم؟ اگر نور از جسمی وارد چشم ما شود آن جسم را می‌بینیم



شکل ۱- چگونه دیدن اجسام

هرگاه بخواهیم جسمی را ببینیم به نور نیاز داریم. در تاریکی

ما چیزی را نمی‌بینیم؛ ولی در حضور نور می‌توانیم اجسام را با

رنگ‌های مختلف ببینیم. چه ارتباطی بین نور و دیدن هست؟

نور اجسامی مانند تلویزیون یا لامپ روشن مستقیماً به چشم

می‌رسد اما وقتی می‌خواهیم صفحه کتابی را ببینیم بازتاب نور تابیده

شده به آن به چشم می‌رسد. نور بر یاخته‌های گیرنده نور چشم اثر

می‌کند و پیام عصبی ایجاد می‌شود. این پیام از طریق عصب بینایی

به مغز مخابره می‌شود. مغز با اطلاعات دریافتی تصویری از جسم را

مهمی می‌کند و ما آن را می‌بینیم (شکل ۱).

چگونه اجسام را می‌بینیم

اجسام به دو دلیل دیده می‌شوند: یا منیر هستند یا می‌توانند نور اجسام منیر را به چشم ما بازتاب دهند

با ساختمان چشم در کلاس پنجم آشنا شدید. با استفاده از مولاژ چشم

یا پوست‌های موجود در مدرسه شکل ساده‌ای از کره چشم را ترسیم و بخش‌های مختلف آن را

فعالیت

نام‌گذاری کنید.

لایه‌های چشم به تدریج از بیرون به داخل عبارتند از صلیبیه- مشیمیه و شبکیه و بخشهایی به نام قرنیه ، مردمک ، عنبیه ، عدسی ، مایع زلالیه ، مایع زجاجیه ، رگهای خونی و در داخل چشم ها قرار دارند

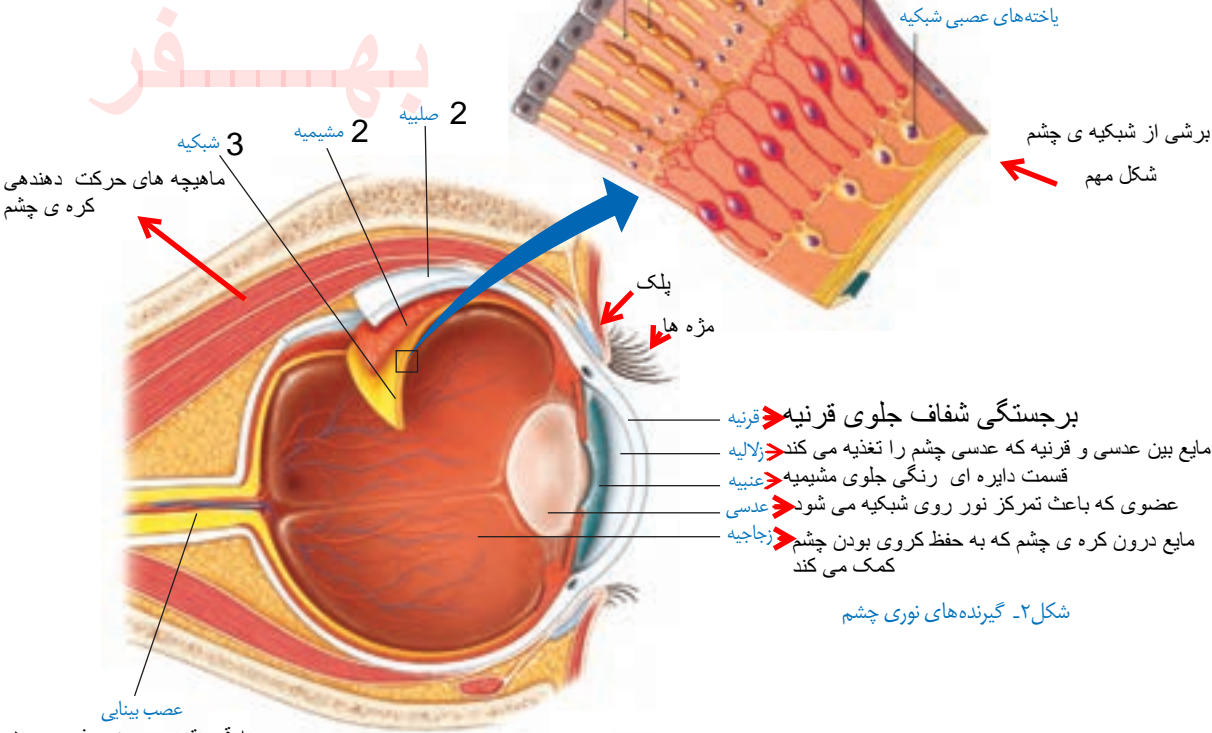
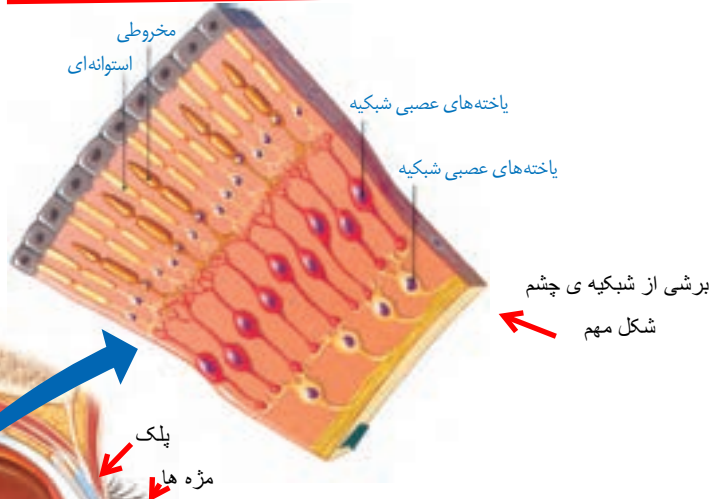
یاخته های گیرنده ی نور در کدام لایه ی چشم قرار دارند و کار هریک را بیان کنید

در لایه داخلی چشم (شبکیه) دو نوع یاخته گیرنده نوری مخروطی و استوانه ای هست. این یاخته ها اثر نور را به پیام عصبی تبدیل می کنند و از طریق عصب بینایی به مرکز حس بینایی در قشر مخ می فرستند (شکل ۲). مرکز حس بینایی در قسمت پس سری قشر مخ قرار دارد.

گیرنده های مخروطی سه نوع اند که هر کدام به یکی از رنگ های اصلی (قرمز، آبی و سبز) حساسیت دارند. با تحریک یک یا چند مورد از این یاخته ها، رنگ های مختلف اجسام را می بینیم. گیرنده های استوانه ای دید سیاه و سفید دارند و تعدادشان بیشتر است.

مرکز حس بینایی در کجای مخ است؟

تعداد گیرنده های استوانه ای از مخروطی بیشتر است



شکل ۲- گیرنده های نوری چشم

« چگونه صداهای مختلف را می شنویم؟ چه صداهایی را میشنویم؟ آیا به همه ی صدا ها پاسخ می دهیم؟ »

وقتی در خیابان راه می رویم، صداهای مختلفی را می شنویم. صدای بوق ماشین، صدای

فروشنده های دوره گرد، پرندگان روی درختان و... به بعضی از آنها نیز پاسخ می دهیم؛ مثلاً از جلوی

ماشین به کنار می رویم یا به سمت فروشنده برای خرید می رویم.

صدا به چه صورت در اطراف ما وجود دارد؟

چگونه صدا را احساس می کنیم؟

صدا یا صوت به صورت امواجی در اطراف ما پراکنده اند. هر کدام که به گوش ما برسد به پیام عصبی تبدیل و به مرکز شنوایی در قشر مخ فرستاده می شود تا ضمن درک آن در صورت نیاز پاسخ مناسب داده شود. مرکز شنوایی در قسمت گیجگاهی قشر مخ قرار دارد. مرکز حس شنوایی کجاست؟

می دانید که گوش ما دارای سه بخش است که مهم ترین آنها گوش داخلی است. در گوش داخلی یاخته های گیرنده وجود دارند و پیام های صوتی را به پیام عصبی تبدیل می کنند. گیرنده های صوتی یاخته های مژه داری اند که در بخش حلزونی گوش داخلی قرار دارند و با انرژی صوت مژه های آنها تحریک می شوند و پیام عصبی تولید می کنند (شکل ۳).

گوش دارای چند بخش است و مهم ترین بخش آن کدام است؟

علت تولید پیام عصبی در گوش داخلی چیست؟



گوش داخلی حلزون گوش

یاخته های گیرنده شنوایی

شکل ۳- گیرنده های شنوایی مژه دار

با استفاده از مولاژ گوش و پوسترهای موجود در آزمایشگاه شکل ساده ای

فعالیت



از بخش های مختلف گوش خارجی، میانی و داخلی را رسم و نام گذاری کنید.

سوال « از وجود بو در محیط چگونه آگاه می شویم؟ پاسخ

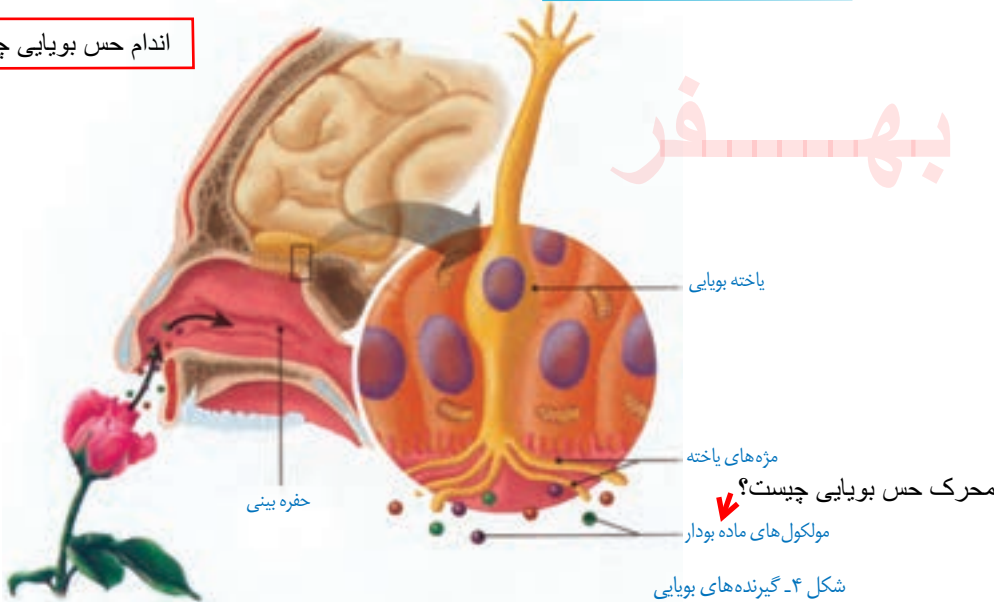
وقتی گلی را بو می کنیم، حالت خوشایندی به ما دست می دهد و بوهای بد احساس ناخوشایندی در ما پدید می آورند. همیشه مقداری از مولکول های مواد بودار به حالت گاز در اطراف این مواد وجود دارند. وقتی این مولکول ها وارد بینی ما می شوند، روی گیرنده های بویایی قرار می گیرند. این گیرنده ها پیام عصبی تولید می کنند و به قشر مخ می فرستند. به این ترتیب بوی مواد را تشخیص می دهیم. مرکز حس بویایی در جلوی نیمکره های مخ است.

مرکز حس بویایی کجاست؟

چرا انسان میتواند بوهای زیادی را احساس و تشخیص دهد؟

تنوع گیرنده‌هایی که در بافت پوشش بینی قرار دارند، زیاد است و باعث می‌شود بوهای مختلف را احساس و از هم تشخیص دهیم (شکل ۴).

اندام حس بویایی چیست؟ بینی



شکل ۴- گیرنده‌های بویایی

مثلا با استشمام بوی گاز شهری یا بنزین در محیط کبریت روشن نمی‌کنیم با احساس بوی بد غذا آنرا نمی‌خوریم و مسموم نمی‌شویم

گفت‌وگو کنید

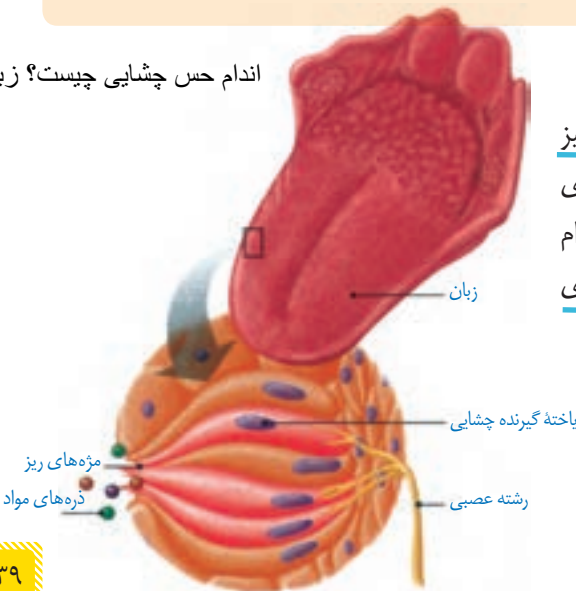
وجود حس بویایی در جلوگیری از خطر و حتی حفظ جان شخص مؤثر است. با ذکر مثال‌هایی در این باره با هم کلاس‌تان گفت‌وگو کنید.

اندام حس چشایی چیست؟ زبان

« مزه دارد یا ندارد؛ یعنی چه؟ »

وقتی خودکار، کلید یا جسم پلاستیکی تمیز را در دهان و روی زبان می‌گذاریم، مزه‌ای احساس نمی‌شود؛ چرا؟ اما مواد غذایی هر کدام مزه‌ای دارند که احساس می‌شود. مزه‌های غذاهای خیلی داغ و خیلی سرد هم احساس نمی‌شود.

چه مزه‌هایی را احساس نمی‌کنیم؟



نکته‌ی مهم: برای احساس مزه‌ی یک ماده حتماً باید آن ماده در بزاق دهان حل شود یا دمای مناسبی داشته باشد

شکل ۵- گیرنده‌های چشایی

در جوانه‌هایی چشایی زبان قرار دارند

چگونگی تشخیص مزه ی غذا در دهان را توضیح دهید

روی زبان و دیواره دهان یاخته های گیرنده چشایی قرار دارند. مواد غذایی پس از حل شدن در بزاق روی این گیرنده ها قرار می گیرند و پیام عصبی ایجاد می کنند. پیام به قشر مخ فرستاده، و مزه تشخیص داده می شود (شکل ۵).

بهار

گفت و گو کنید

درباره انواع مزه اصلی و اینکه در کجای زبان بهتر احساس می شوند با هم کلاسی های خود

گفت و گو کنید. نتیجه بحث خود را به صورت گزارش ارائه کنید. مزه ی شیرینی در نوک زبان- مزه ی شوری و ترشی در کناره های زبان و مزه ی تلخی در ته زبان احساس می شود.

بوسیله ی چه اندامی سردی و گرمی، زبری یا نرمی را احساس می کنیم؟

« سرد است یا گرم؟ نرم است یا زبر؟ »

وقتی وارد محیطی می شویم، گرمی یا سردی آن را حس می کنیم. همچنین وقتی به جسمی دست می زنیم، می توانیم گرمی، سردی، نرمی یا زبری آن را احساس کنیم. درک این موارد با کمک پوست صورت می گیرد (شکل ۶).

در پوست چه گیرنده هایی وجود دارد؟



در پوست، یاخته های گیرنده متفاوتی هست که اثر محرک های مختلف را به پیام عصبی تبدیل می کنند و به قشر مخ می فرستند. گیرنده های پوست شامل سرما، گرما، لمس، فشار و درد می شوند که با کمک آنها تغییرات محیط را احساس می کنیم.

دقت کنید که گیرنده های متفاوتی در زیر پوست وجود دارد

شکل ۶- پوست

وجود گیرنده های متفاوت در پوست چه اهمیتی دارد؟

گفت و گو کنید

وجود گیرنده های متفاوت در پوست به سالم ماندن بدن ما کمک می کند. درباره نقش هر یک از گیرنده ها در سالم ماندن بدن با هم کلاسی های خود گفت و گو کنید.

مثلا باگیرنده های دمایی متوجه دمای مناسب می شویم و بدن از گرما و سرمای شدید در امان می ماند و با پوست خود متوجه تماس اجسام نوک تیز می شویم و پوست ما از آسیب محفوظ می ماند

دستگاههای حرکتی



پیام های عصبی چه تاثیری بر ماهیچه ها دارند؟

« دستگاه حرکتی

در فصل های گذشته گفتیم که پیام های حرکتی از طرف دستگاه عصبی مرکزی برای ماهیچه ها فرستاده می شود تا با انقباض آنها حرکت اتفاق بیفتد. اما برای ایجاد حرکت در بدن ما چه قسمت های دیگری دخالت دارند؟

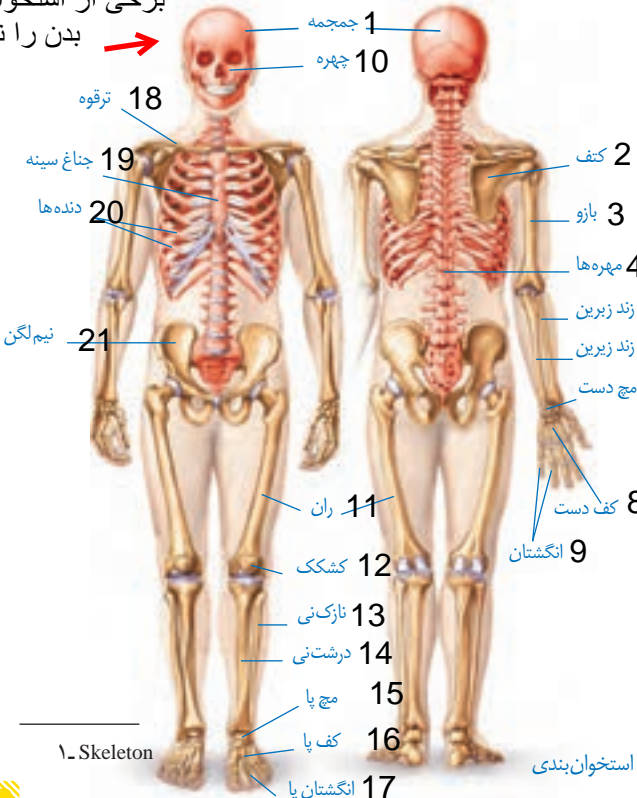
به جز دستگاه عصبی و ماهیچه ها وجود استخوان ها نیز برای حرکت کردن اعضای بدن لازم اند. ماهیچه ها و استخوان بندی (اسکلت^۱) بدن مجموعاً دستگاه حرکتی بدن را می سازند (شکل ۷).

در ادامه این فصل درباره ساختمان و عمل استخوان بندی، ماهیچه ها و چگونگی همکاری آنها مطالبی را خواهید آموخت.

شکل ۷- دستگاه حرکتی

بهر

برخی از استخوان های بدن را نام ببرید



۱- Skeleton

« استخوان بندی چیست؟

به مجموعه استخوان ها، غضروف ها و اتصالات آنها در بدن استخوان بندی می گویند (شکل ۸).

بیشتر استخوان های ما ابتدا از غضروف ساخته شده اند. این بخش های غضروفی در هنگام رشد با جذب مواد معدنی مثل کلسیم و فسفر، سخت و به استخوان تبدیل می شوند.

استخوان چگونه ساخته می شود؟

استخوان ها در بدن ما وظایف گوناگونی را بر عهده دارند. از اندام های مهم مثل قلب، مغز و

شکل ۸- استخوان بندی

برخی از فواید استخوان در بدن را بیان کنید

سوال : استخوان و غضروف جزو کدام یک از بافت های بدن هستند؟ بافت پیوندی

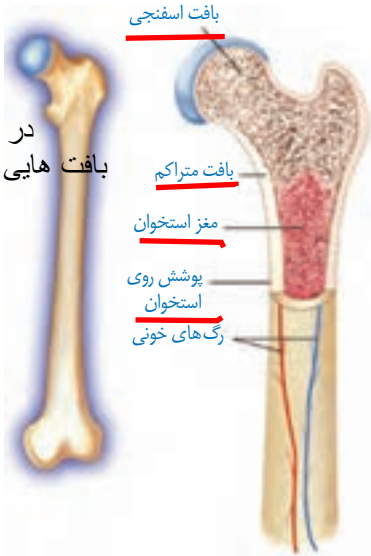
شش ها محافظت می کنند؛ به بدن ما شکل و فرم می دهند؛ در حرکت بدن به ماهیچه ها کمک می کنند و همچنین ذخیره مواد معدنی و تولید یاخته های خونی را انجام می دهند.

در ساختار استخوان بندی، استخوان و غضروف به کار رفته است. می دانید که این دو بافت، انواعی از بافت پیوندی اند. یاخته های این بافت ها در ماده ای به نام ماده زمینه ای قرار دارند. در ماده زمینه رشته های پروتئینی و مواد معدنی وجود دارد.

در ماده ی زمینه ای استخوان چه موادی وجود دارد؟

« استخوان

استخوان استحکام و مقاومت زیادی دارد و در ماده زمینه آن کلسیم و فسفر فراوان است. در ساختار استخوان بافت استخوانی به دو صورت متراکم و حفره دار (اسفنجی) دیده می شود.



در استخوان چه بافت هایی وجود دارد؟

شکل ۹- بافت های استخوان

چه موادی باعث مقاومت و استحکام استخوان ها می شود؟ ← کلسیم و فسفر

اطلاعات جمع آوری کنید

درباره عوامل مؤثر بر پوکی استخوان و منابع غذایی دارای کلسیم و فسفر اطلاعاتی را جمع آوری، و نتایج را به صورت پرده نگار در کلاس ارائه کنید.

جنسیت: زنان بیشتر از مردان در خطر ابتلا به این بیماری هستند.

سن: افراد مسن بیشتر از دیگران در خطر این بیماری می باشند.

نژاد: افراد سفیدپوست و همچنین آسیایی ها در خطر بیشتری قرار دارند.

سابقه خانوادگی: ابتلا پدر و مادر و خواهر و برادر به پوکی استخوان خطر ابتلا شما را نیز افزایش می دهد.

جثه: افرادی که جثه کوچکی دارند در خطر بیشتری برای ابتلا به بیماری قرار دارند.

چراکه ممکن است ساخت استخوان در این افراد کم تر باشد.

آزمایش کنید



مواد و وسایل

سه قطعه استخوان مشابه مرغ، چراغ الکلی، سرکه

روش اجرا: یک قطعه از استخوان ها را در سرکه بیندازید و بگذارید چند روزی بماند. قطعه دیگر را روی شعله نگه دارید تا بسوزد؛ قطعه سوم را بدون تغییر نگه دارید. سپس سه استخوان را از لحاظ نرمی و شکنندگی با هم مقایسه کنید.

۱- کدام استخوان استحکام بیشتری دارد؟ ← استخوانی که بدون تغییر مانده است

استخوانی که در سرکه قرار داشته است زیرا کلسیم و فسفر آن در سرکه حل شده و مقاومت آن کاهش یافته است.

استخوانی را که روی شعله نگه داشته ایم زیرا پروتئین آن از بین رفته و در اثر ضربه می شکند

۲- کدام استخوان نرم تر است؟ چرا؟

۳- کدام استخوان شکننده تر است؟ چرا؟

در باره علت هر کدام با هم کلاسی های خود گفت و گو کنید. ← علت توضیح داده شد

برخی از فواید غضروف در بدن را بیان کنید

« غضروف

در نوک بینی، لاله گوش و محل اتصال استخوان ها غضروف وجود دارد. غضروف نرم و قابل انعطاف است و مانع اصطکاک استخوان ها در مفاصل می شود.

تفاوت 4 نوع مفصل را از نظر حرکت بیان کنید

« مفصل را تعریف کنید

محل اتصال استخوان ها به یکدیگر را **مفصل** می گویند. مفصل ها در بدن ما انواع متفاوتی دارند. بعضی از مفصل ها در جهت های مختلفی می چرخند؛ مانند مفصل بین بازو و شانه. بعضی از آنها فقط در یک جهت خاص حرکت می کنند؛ مثل آرنج.

بعضی از آنها حرکت محدودی دارند؛ مثل مفصل بین دنده ها و ستون مهره ها. بعضی از مفصل ها نیز حرکت ندارند و کاملاً ثابت اند؛ مثل مفصل بین استخوان های جمجمه (شکل ۱۰).

بافت پیوندی محکمی که استخوان ها را در محل مفصل های متحرک به هم وصل می کند، رباط

نام دارد.

رباط چیست؟



1- نیمه متحرک 2- گوی و کاسه ای 3- لولایی 4- ثابت

انواع مفصل را نام ببرید

گفت و گو کنید

با توجه به میزان حرکت در قسمت های مختلف بدن درباره انواع مفصل با افراد هم گروه خود

گفت و گو کنید.

میزان حرکت در یک قسمت از بدن بستگی به نوع مفصلی دارد که در آن قسمت به کار رفته است

مثلاً بازوها و پاها حرکات بیشتری از بقیه ی قسمت های بدن دارند و این به دلیل مفصلهای گوی و کاسه ای آنهاست. اما در زانو فقط در دو جهت حرکت وجود دارد که به دلیل وجود مفصل لولایی در آن است. قفسه سینه حرکت کم تری دارد چون مفصل نیمه متحرک دارد و در استخوانهای جمجمه هیچ حرکتی نیست به دلیل وجود مفصل ثابت در آن است

آیا می دانید؟

– هنگام دررفتگی، استخوان از محل مفصل خارج شده است.

– در پیچ خوردگی، مفصل در جهت خلاف حرکت خود حرکت کرده است.

– در بیماری مفصل آماس (آرتروز^۱) غضروف یا سراسخوان در محل مفصل تخریب شده است.



اطلاعات جمع آوری کنید

رابط های بدن بسیار زیاد هستند ولی تعدادی از آنها عبارتند از

رابطهای کپسولی که به کپسول مفصلی چسبیده اند و بخشی از کپسول مفصلی محسوب می شوند

• رابطهای خارج کپسولی که در خارج کپسول مفصلی قرار دارند که ممکن است به مفصل نزدیک یا از مفصل دور باشند

• رابطهای داخل کپسولی که در داخل کپسول مفصلی واقع شده اند

مثال هایی از لیگامان های کپسولی

• لیگامان گلنوهومرال

• لیگامان آکرومیوکلویکلار

درباره انواع رباط در مفصل ها اطلاعاتی را جمع آوری و به صورت گزارش در کلاس ارائه کنید.

« ماهیچه ها چگونه باعث حرکت استخوانها می شوند؟

استخوان بندی به تنهایی قادر به حرکت نیست. اتصال و همکاری بین ماهیچه ها و استخوان های

اندام، باعث حرکت می شوند. ماهیچه ها استخوان ها را تکیه گاه خود قرار می دهند و با انقباض و انبساط

باعث حرکت آنها می شوند.

حرکات ارادی بدن توسط کدام نوع ماهیچه ها انجام می شوند؟

حرکات ارادی بدن، که می توانیم آنها را واپایش کنیم، توسط ماهیچه های اسکلتی یا مخطط انجام

می شود؛ ولی بدن ما حرکات غیر ارادی نیز دارد؛ مثل تپش قلب که توسط ماهیچه های قلبی انجام

می شود. حرکات دستگاه گوارش و باز و بسته شدن مردمک را نیز ماهیچه های صاف انجام می دهند. در

حرکات غیر ارادی

بدن توسط چه نوع

ماهیچه هایی کنترل

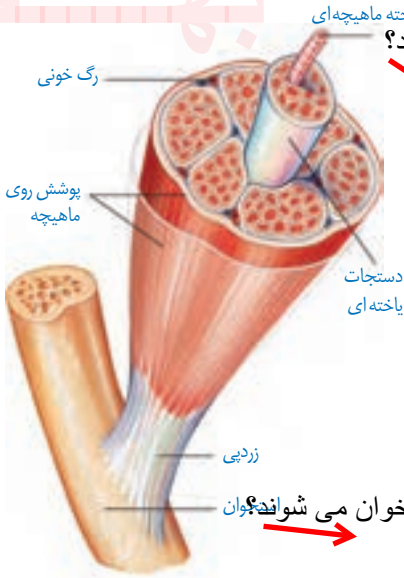
میشود؟

جدول زیر انواع ماهیچه های بدن با هم مقایسه شده اند. قسمت های خالی آن را تکمیل کنید.

	منشعب یک یا چند هسته ای	یک هسته ای دوکی شکل	مخطط	چند هسته ای
شکل				
نام - نوع	قلبی	صاف	اسکلتی	
عمل	غیر ارادی	غیر ارادی	ارادی	
رنگ	قرمز	سفید - صورتی	قرمز	
محل	بافت ماهیچه ای قلب	دیواره دستگاه گوارش، تنفس ...	متصل به استخوانها	

۱- Arthritis

« بافت در ماهیچه اسکلتی چگونه تشکیل می شود؟ »



شکل ۱۱- ساختار ماهیچه اسکلتی

یاخته‌های ماهیچه‌ای دراز و نازک‌اند و در طول در کنار هم قرار گرفته‌اند. بافت پیوندی، یاخته‌های ماهیچه‌ای را به هم متصل می‌کند و دستجات ماهیچه‌ای بزرگ و بزرگ‌تری را می‌سازد که مجموعه آنها ماهیچه را تشکیل می‌دهند.

بافت پیوندی بین رشته‌ها و روی ماهیچه‌ها تا دو سر آن ادامه می‌یابند و طناب سفیدرنگی به نام زردپی (تاندون^۱) را می‌سازند که معمولاً به استخوان متصل می‌شود.

زرد پی یا تاندون چیست؟

ماهیچه‌های اسکلت چگونه باعث حرکت وقتی همه یاخته‌ها با هم منقبض می‌شوند، ماهیچه کوتاه‌تر و ضخیم می‌شود و چون زردپی آن به استخوان متصل است، باعث حرکت آن می‌شود (شکل ۱۱).



دوسر در حال انجام کار

چرا ماهیچه‌ها معمولاً به صورت جفت و عکس هم کار می‌کنند؟

وقتی ماهیچه‌ای منقبض و کوتاه می‌شود، استخوانی را به یک سمت حرکت می‌دهد. این ماهیچه در حالت استراحت نمی‌تواند استخوان را به جای قبلی خود برگرداند. این عمل را باید یک یا چند ماهیچه در سمت دیگر استخوان انجام دهند. به همین دلیل بیشتر ماهیچه‌های اسکلتی عمل متقابل دارند و جفت جفت کار می‌کنند (شکل ۱۲).



شکل ۱۲- عملکرد ماهیچه‌ها به صورت جفت

تعالیبت

تشریح بال مرغ

یک بال مرغ کامل و سالم، تهیه و با کمک وسایل تشریح آن را بررسی کنید و انواع ماهیچه‌های جفت جفت و مفصل‌ها را در آن تشخیص دهید.

۱- Tendon

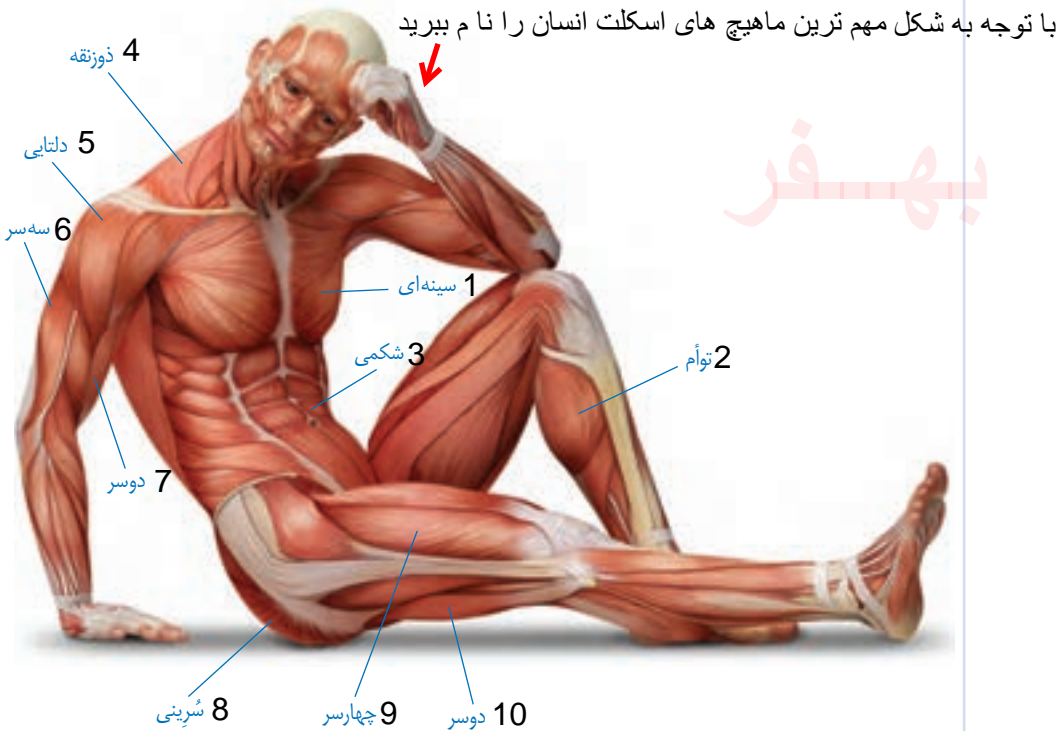
بال مرغ داری بازو ، ساعد و انگستان است ولی شکل آنها با انسان متفاوت است

آیا می‌دانید؟

ماهیه‌های اسکلت را بر چه اساس تقسیم بندی می‌کنند؟

ماهیه‌های اسکلتی بدن بر اساس شکل، محل قرار گیری یا کاری که انجام

می‌دهند، تقسیم بندی می‌شوند. مهم ترین ماهیه‌های بدن را در شکل زیر می‌بینید.



کمبود مواد معدنی و یا تحریک پذیری افراطی عصب عضلات ممکن است باعث گرفتگی عضلات شوند

کشیدگی ماهیه‌ها عامل بروز آسیب به عضله یا تاندون است

تحقیق و پژوهش

درباره گرفتگی ماهیه‌ها، کشیدگی ماهیه‌ها و درد ماهیه‌ها، اطلاعاتی را جمع‌آوری کنید و

به پرسش‌های زیر پاسخ دهید:

– چگونه می‌توان از موارد فوق جلوگیری کرد؟

– در صورت بروز هر کدام از موارد چه باید بکنیم؟

شایع ترین علل درد عضلانی، کشیدگی، استرس، آسیب بیش از حد و ضعف مختصر عضلانی هستند. این نوع درد معمولاً نقطه‌ای است و فقط چند عضله یا بخش کوچکی از بدن را تحت تأثیر قرار می‌دهد (درد سیستمیک عضلات (درد در تمام بدن) اغلب نتیجه عفونت، بیماری یا عوارض جانبی دارو است.

به‌فر

دبیر علوم تجربی تیزهوشان ناحیه دو خرم آباد

کانال تلگرام: @behfaroloum8