

مرجع سوالات و محتوای آموزشی

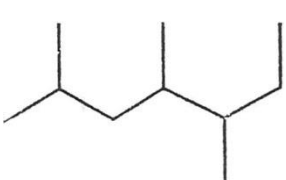
ابتدایی-دوره متوسطه اول و دوم


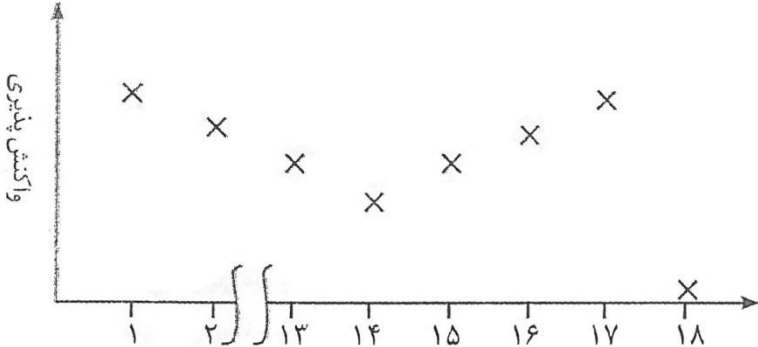
زبان خارجه - فناوری اطلاعات



www.novinmad.ir



نام و نام خانوادگی: مقطع و رشته: شماره داوطلب: تعداد صفحه سؤال:	نام درس: شیمی ۲ نام دبیر: قدیانی تاریخ امتحان:/...../۱۳..... ساعت امتحان: صبح / عصر مدت امتحان: دقیقه	<h1 style="margin: 0;">novinmad.ir</h1>	
سؤال	« سؤالات »		پاسخ
۳	<p>۱ صحیح یا غلط بودن عبارات زیر را مشخص کنید.</p> <p>(A) هر چه خصلت فلزی یک فلز و یا خصلت نافلزی یک نافلز بیشتر باشد، فعالیت شیمیایی آن عنصر بیش تر خواهد بود.</p> <p>(B) در یک دوره به دلیل افزایش تعداد لایه‌ها از چپ به راست شعاع اتمی افزایش می‌یابد.</p> <p>(C) واکنش‌پذیری لم آهن از طلا کم‌تر است و به همین دلیل در ساخت در و پنجره فلزی از آهن استفاده می‌شود.</p> <p>(D) شدت واکنش میان پتاسیم و فلوئور بیشتر از شدت واکنش میان سدیم و ید است.</p> <p>(E) در یک گروه، از بالا به پایین، خواص فلزی افزایش می‌یابد.</p> <p>(F) در هر گروه از جدول همواره فلز، نافلز و شبه فلز وجود دارد.</p> <p>(G) فلزهای گروه اول بر اثر ضربه خرد می‌شوند و تغییر شکل می‌دهند.</p> <p>(H) در هر دوره، از چپ به راست با افزایش عدد اتمی، خواص فلزی افزایش می‌یابد.</p> <p>(I) شمار عنصرهای فلزینف شبه فلزی و نافلزی به ترتیب برابر ۳، ۲ و ۳ می‌باشد.</p> <p>(J) در این دوره، سه اتم در واکنش با دیگر اتم‌ها الکترون به اشتراک می‌گذارند یا می‌گیرند.</p> <p>(K) در میان عناصر این دوره چهار عنصر دارای سطح براق هستند که سه عدد از آن‌ها در اثر ضربه تغییر شکل می‌دهند ولی خرد نمی‌شوند.</p> <p>(L) ۶۲/۵ درصد عنصرهای این دوره رسانای جریان برق نیستند.</p>		۱
۴	<p>۲ هر یک از هیدروکربن‌های زیر را به روش آیوپاک نام‌گذاری کنید.</p> <p>(الف)</p> $\begin{array}{ccccccc} \text{CH}_3 & - & \text{CH} & - & \text{CH}_2 & - & \text{CH}_2 & - & \text{CH} & - & \text{CH}_3 \\ & & & & & & & & & & \\ & & \text{CH}_2\text{CH}_3 & & & & \text{CH}_2\text{CH}_3 & & & & \end{array}$ <p>(ب)</p> $\begin{array}{ccccccc} & & & & \text{CH}_3 & & \text{CH}_2 \\ & & & & & & \\ \text{CH}_3 & - & \text{CH} & - & \text{CH}_2 & - & \text{CH} & - & \text{CH} & - & \text{CH}_3 \\ & & & & & & & & & & \\ & & \text{CH}_3 & & & & \text{CH}_3 & & & & \end{array}$ <p>(ج)</p> <p>(د)</p> $(\text{CH}_3)_2\text{CHCH}_2\text{CH}(\text{CH}_3)_2$ 		۲
۳	<p>۳ از واکنش ۸/۱ گرم فلز آلومینیم با خلوص ۸۹۰ درصد با محلول مس (II) سولفات مطابق واکنش زیر، چند گرم فلز مس آزاد می‌شود؟</p> $2\text{Al(s)} + 3\text{CuSO}_4(\text{aq}) \rightarrow 3\text{Cu(s)} + \text{Al}_2(\text{SO}_4)_3(\text{aq})$		۳

۲	<p>سیلیسیم عنصر اصلی سازنده سلول‌های خورشیدی است که از واکنش زیر تهیه می‌شود.</p>  $\text{SiO}_2(\text{S}) + 2\text{C}(\text{s}) \xrightarrow{3000^\circ\text{C}} \text{Si}(\text{l}) + 2\text{CO}(\text{g})$ <p>الف) واکنش‌پذیری کربن با سیلیسیم را مقایسه کنید. ب) مقدار ناخالصی در ۱۰۰ گرم سیلیسیم حاصل ۰/۰۰۰۱ گرم است. درصد خلوص سیلیسیم را حساب کنید.</p>	۴
۳	<p>نمودار زیر روند کلی تغییر واکنش‌پذیری عنصرهای دوره دوم جدول دوره‌ای را نشان می‌دهد.</p>  <p>الف) چرا واکنش‌پذیری عنصرهای گروه ۱۸ در حدود صفر است؟ ب) روند تغییر واکنش‌پذیری را توضیح دهید:</p>	۵
۳	<p>معدن مس سرچشمه کرمان، یکی از بزرگ‌ترین مجتمع‌های صنعتی معدنی جهان به شمار می‌رود و بزرگ‌ترین تولید کننده مس است. برای تهیه مس خام از سنگ معدن آن، واکنش زیر انجام می‌شود.</p> $\text{Cu}_2\text{S} + \text{O}_2 \rightarrow 2\text{Cu} + \text{SO}_2$ <p>الف) با مصرف ۴۰۰ kg مس (I) سولفید با خلوص ۸۵٪ حدود ۱۹۰/۵۴ kg مس خام تهیه می‌شود. بازده درصدی واکنش را حساب کنید. ب) چرا این واکنش روی محیط زیست تأثیر زیان‌باری دارد؟</p>	۶
۲	<p>هگزان (C_6H_{14}) و ۱-هگزن (C_6H_{12}) دو مایع بی‌رنگ هستند. الف) روشی برای تشخیص این دو مایع پیشنهاد کنید. ب) جای خالی را در واکنش زیر پر کنید.</p> $\text{C}_6\text{H}_{12}(\text{l}) + \dots \xrightarrow{\text{Ni}(\text{s})} \text{C}_6\text{H}_{14}(\text{l})$	۷

موفق و پیروز باشید.

نام درس: شیمی ۲ نام دبیر: قدیانی تاریخ امتحان:/...../۱۳ ساعت امتحان: صبح / عصر مدت امتحان: دقیقه		novinmad.ir		پاسخ نامه سوالات
ردیف	راهنمای تصحیح			ردیف
۳	<p>(A) درست (B) نادرست (C) نادرست (D) درست (E) درست (F) نادرست (G) نادرست (H) نادرست (I) نادرست (J) نادرست (K) درست (L) نادرست</p>			۱
۴	<p>(الف) ۲ و ۳ و ۴ و ۶- تترامتیل هپتان (ب) ۳ و ۶ دی متیل اوکتان (ج) ۲ و ۴ و ۵ تری متیل هپتان (د) ۲ و ۴ دی متیل پنتان</p>			۲
۳	<p>خالص $\frac{7}{29} \times 100 = 90 \Rightarrow$ مقدار خالص $\frac{7}{29}$ $\frac{8}{1}$ $x \text{ gcu} = \frac{7}{29} \text{ gAl} \times \frac{1 \text{ mol Al}}{27 \text{ g}} \times \frac{3 \text{ mol Cu}}{2 \text{ mol Al}} \times \frac{64 \text{ g}}{1 \text{ mol Cu}} = 25/92 \text{ g}$</p>			۳
۲	<p>(الف) کربن از سیلسیم واکنش پذیری بیشتری دارد. $\frac{99/9999}{100} \times 100 = 99/9999\%$ (ب)</p>			۴
۳	<p>(الف) زیرا اوکتت هستند و میل به ترکیب ندارند. (ب) در گروه ۱ واکنش پذیری از بالا به پایین افزایش و همچنین در گروه دوم اما هالوژن ها واکنش پذیری از بالا به پایین کاهش می یابد، همچنین گروه های ۱، ۲ و ۱۷ از لحاظ واکنش پذیری زیاد هستند اما گروه ۱۸ واکنش پذیری (تقریباً صفری دارد).</p>			۵
۳	<p>(الف) $\frac{x}{400000} \times 100 = 85 \Rightarrow x = 340000 \text{ g}$ $x \text{ kgcu} = 34 \cdot \text{kgcu} \times \frac{1 \text{ mol}}{0/16 \text{ kg}} \times \frac{2 \text{ mol Cu}}{1 \text{ mol}} \times \frac{0/064 \text{ kg}}{1 \text{ mol Cu}} = 272 \text{ kgCu}$ نظری تقریباً درصد ۷۰ $\frac{190/54}{272} \times 100$ بازده</p> <p>(ب) به علت آزاد شدن گاز SO_2 که سمی است گوگرد دی اکسید و همچنین خراب شدن در معدن</p>			۶
۲	<p>(الف) استفاده از برم Br برای تشخیص هگزان و ۱- هگزان (ب) H_2</p>			۷