


۵

مجموعه دفترهای خلاف من

دفتر مشق ریاضی

«آموزش عدد نویسی»
پایه اول ابتدایی

از همین مجموعه منتشر شد:



مریم عباسی
طیبه عنابستانی










کاربرد اعداد



در هر خانه چند شکل می بینی به بزرگ ترها بگو.



عدد مربوط به هر دسته را بنویس و شکل های دسته ی بیشتر را رنگ بزن.



به اندازه ی عدد داده شده، چوب خط بکش.

۴	۵	۶	۷	۸
<input type="text"/>	<input type="text"/>	<input type="text"/>	<input type="text"/>	<input type="text"/>



به تعداد چوب خط های سمت چپ، چینه ها را آبی و به تعداد چوب خط های سمت راست چینه ها را قرمز کن.





مانند نمونه عدد ۸ را بنویس.



۸-۸-۸-۸-۸-۸-۸-۸-۸-۸-۸-۸-۸



۸-۸-



در هر ردیف به تعداد عددهای سمت چپ رنگ آبی و به تعداد عددهای سمت راست رنگ سبز بزن، چوب خط مربوط به هر عدد را نشان بده.



	۵					۸	
	۱					۷	
	۲					۶	
	۳					۵	
///	۴					۴	///
	۵					۳	
	۶					۲	
	۷					۱	
	۸					۰	



فرزندم جمع خانواده ۸ را بنویس.

۷۲

جمع خانواده ۱

+ =









+ =

+ =

+ =



عزیزم با استفاده از دو رنگ مداد رنگی جمع های عدد ۸ را بنویس.

○	○	○	○	○	○	○	○	+	=	
○	○	○	○	○	○	○	○	+	=	
○	○	○	○	○	○	○	○	+	=	
○	○	○	○	○	○	○	○	+	=	
○	○	○	○	○	○	○	○	+	=	
○	○	○	○	○	○	○	○	+	=	
○	○	○	○	○	○	○	○	+	=	
○	○	○	○	○	○	○	○	+	=	

۸



فرزندم حاصل جمع های اساسی زیر را بنویس ، آن ها را بخوان
و تمرین کن تا حفظ شوی.



$$\begin{array}{r} 0 \\ + 0 \\ \hline \end{array}$$



$$\begin{array}{r} 1 \\ + 0 \\ \hline \end{array}$$

$$\begin{array}{r} 0 \\ + 1 \\ \hline \end{array}$$



$$\begin{array}{r} 1 \\ + 1 \\ \hline \end{array}$$

$$\begin{array}{r} 2 \\ + 0 \\ \hline \end{array}$$

$$\begin{array}{r} 0 \\ + 2 \\ \hline \end{array}$$



$$\begin{array}{r} 2 \\ + 1 \\ \hline \end{array}$$

$$\begin{array}{r} 1 \\ + 2 \\ \hline \end{array}$$

$$\begin{array}{r} 3 \\ + 0 \\ \hline \end{array}$$

$$\begin{array}{r} 0 \\ + 3 \\ \hline \end{array}$$



$$\begin{array}{r} 3 \\ + 1 \\ \hline \end{array}$$

$$\begin{array}{r} 1 \\ + 3 \\ \hline \end{array}$$

$$\begin{array}{r} 2 \\ + 2 \\ \hline \end{array}$$

$$\begin{array}{r} 4 \\ + 0 \\ \hline \end{array}$$

$$\begin{array}{r} 0 \\ + 4 \\ \hline \end{array}$$



$$\begin{array}{r} 4 \\ + 1 \\ \hline \end{array}$$

$$\begin{array}{r} 1 \\ + 4 \\ \hline \end{array}$$

$$\begin{array}{r} 3 \\ + 2 \\ \hline \end{array}$$

$$\begin{array}{r} 2 \\ + 3 \\ \hline \end{array}$$

$$\begin{array}{r} 5 \\ + 0 \\ \hline \end{array}$$

$$\begin{array}{r} 0 \\ + 5 \\ \hline \end{array}$$



$$\begin{array}{r} 5 \\ + 1 \\ \hline \end{array}$$

$$\begin{array}{r} 1 \\ + 5 \\ \hline \end{array}$$

$$\begin{array}{r} 3 \\ + 3 \\ \hline \end{array}$$

$$\begin{array}{r} 4 \\ + 2 \\ \hline \end{array}$$

$$\begin{array}{r} 2 \\ + 4 \\ \hline \end{array}$$

$$\begin{array}{r} 6 \\ + 0 \\ \hline \end{array}$$

$$\begin{array}{r} 0 \\ + 6 \\ \hline \end{array}$$





یکی | ده تایی

با عدد:
با حروف:

یکی | ده تایی

با عدد:
با حروف:

یکی | ده تایی

با عدد:
با حروف:

یکی | ده تایی

با عدد:
با حروف:

یکی | ده تایی

با عدد:
با حروف:



۱۵۳

عزیزم، هشت تا هشت تا بشمار و جلو برو

۵۶

۶۴

۴۸

۷۲

۴۰

۸۰

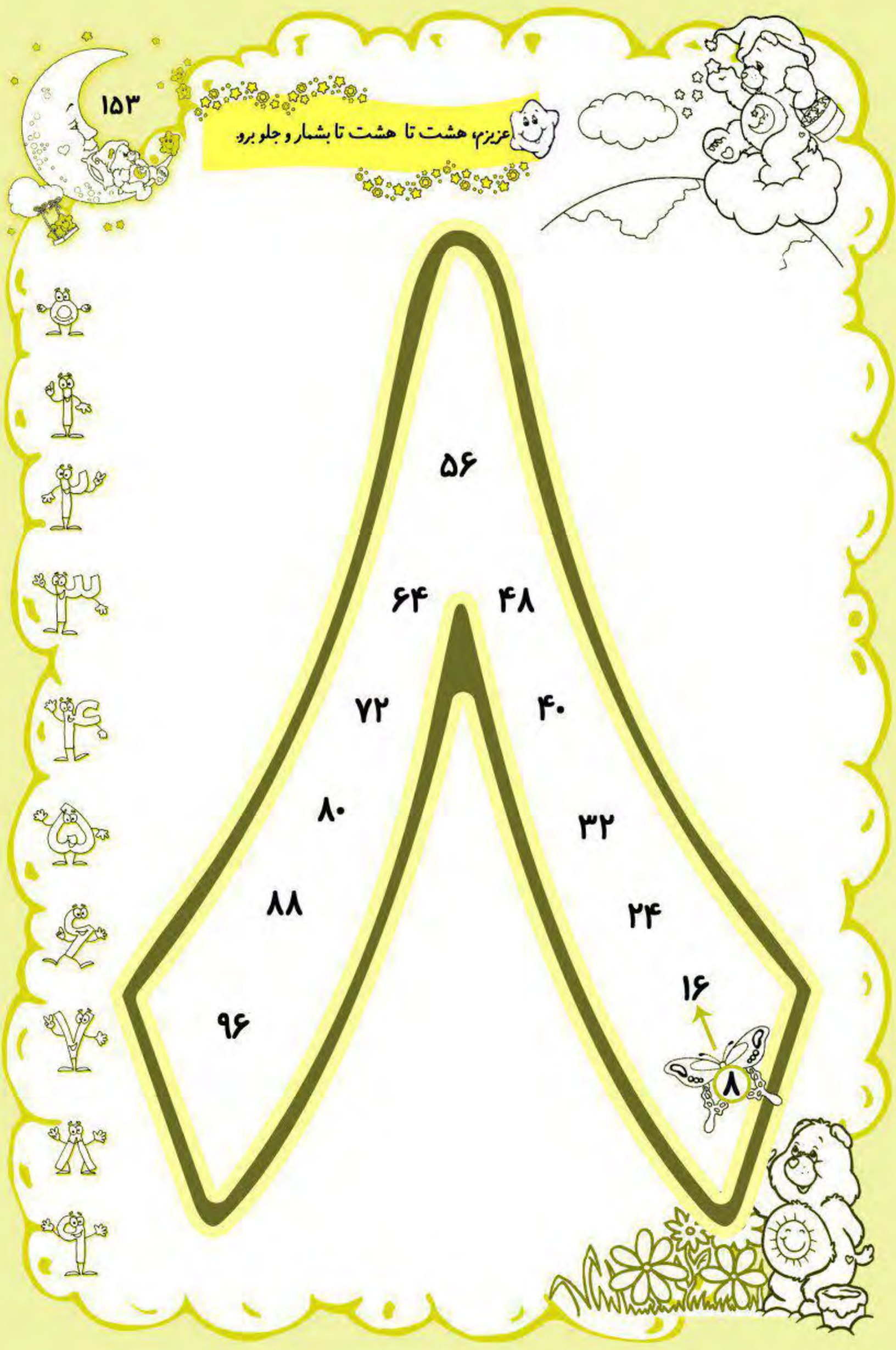
۳۲


۸۸

۲۴


۹۶

۱۶




در هر دسته عدد کمتر را در  و عدد بیشتر را در  بنویس.


6 8





7 6




0 1





7 9





بین عددها از علامت های = یا > استفاده کن و جاهای خالی را با عدد مناسب پر کن.

4  4

7  8



.....  7

.....  5






خانواده ۸۰

با توجه به دسته های ده تایی و یکی ها جدول را کامل کن و سپس عدد مربوطه را بنویس و آن را بخوان



.....
 یکی ده تایی
 هشتاد




.....
 یکی ده تایی
 هشتاد و یک



.....
 یکی ده تایی
 هشتاد و دو

.....
 یکی ده تایی
 هشتاد و سه



.....
 یکی ده تایی
 هشتاد و چهار



.....
 یکی ده تایی
 هشتاد و پنج

.....
 یکی ده تایی
 هشتاد و شش

.....
 یکی ده تایی
 هشتاد و هفت



.....
 یکی ده تایی
 هشتاد و هشت

.....
 یکی ده تایی
 هشتاد و نه

حالا اعداد بالا را به ترتیب در خانه های زیر بنویس.

۸۰

